

# مقياس موهبة

مقياس موهبة للقدرات العقلية المتعددة

المستوى : الصف الثالث الابتدائي

---

## القسم الاول:

### تعليمات

حدّد الكلمة التي تملأ الفراغ لتعطي علاقة مشابهة لما في داخل الصندوق الأيمن.

1:

صورة	إطار	•	بيت	؟
------	------	---	-----	---

أ جدار ب سور ج باب د سقف

### تعليمات

حدّد الكلمة التي تملأ الفراغ لتعطي علاقة مشابهة لما تحت الخط.

2:

إنسان تَنفُسُ حياة

وردة عطش ؟

أ قطف ب لون ج اقتلاع د ذبول

### تعليمات

اختر الإجابة التي تتناسب مع محتوى مقدّمة السؤال

3: عبد الله أطول من محمد، ومحمد أقصر من خالد، وأطول من محمود، فأى الأربعة أقصر؟

أ عبد الله ب محمد ج خالد د محمود

### تعليمات

حدد الاختيار الذي يكمل معنى الجملة إكمالاً صحيحاً.

4: زرع مصطفى بعض الأعشاب الضرورية للطهي، مثل: النعناع والريحان والسُّنُوت؛ وعليه فإن

مصطفى استخدم السُّنُوت .....

أ لإعداد طعامه ب لتعليف غنمه ج لتزيين بيته د لغسل ثيابه

### تعليمات

اختر الإجابة التي تتناسب مع محتوى بداية السؤال.

5: " كادت الشمس تغيب ، وأخشى أن يفوتنا وقت صلاة ... "

أ العصر ب المغرب ج العشاء د الفجر

### التعليمات



حدّد الكلمة التي تملأ الفراغ لتعطي علاقة مشابهة لما في داخل الصندوق الأيمن.

6 : بنج طيبب : صافرة ؟

أ خطأ ب حكم ج مباراة د لاعب

### التعليمات

حدّد الشكل الذي يملأ الفراغ ليعطي علاقة مشابهة لما في داخل الصندوق الأيمن.

7 :  :  ؟

أ  ب  ج  د 

### التعليمات

حدد الاختيار الذي يكمل معنى الجملة إكمالاً صحيحاً.

8: ذهب أحمد لزيارة خالد، وأحضر له هدية قيمة، وعندما فتحها خالد وجد فيها: شماغاً، وثرواناً، وثوباً،

ومشلاً؛ وعليه فإن الثروان من .....

أ العطور ب الملابس ج الساعات د المشروبات

## القسم الثاني:

### تعليمات

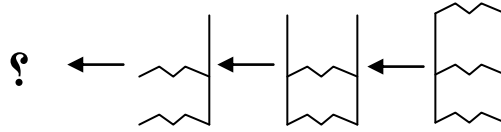
اختر الإجابة الصحيحة.

1: إذا كان عند محمد 21 حمامة و 7 دجاجات، فما عدد الطيور التي عنده؟

- أ 26      ب 28      ج 30      د 32

### تعليمات

أكمل الشكل الناقص لسلسلة الأشكال الآتية؟



2:

- أ       ب       ج       د 

### التعليمات...

في الأسئلة التالية، اختر الإجابة الصحيحة

3: عمل محمد 19 ساعة في شهر محرم، و 19 ساعة في شهر صفر، و 22 ساعة في شهر ربيع الأول؛ فما مجموع الساعات التي عملها في الأشهر الثلاثة؟

أ 40 ب 50 ج 60 د 70

4: أعمار ياسر ومحمد وأحمد وصالح هي 10، 15، 20، 17؛ فإذا كان عُمرًا صالح وياسر عددين فرديين، ومحمد أصغر


من أحمد، فإن عُمر محمد:

أ 10 ب 15 ج 17 د 20

### التعليمات...

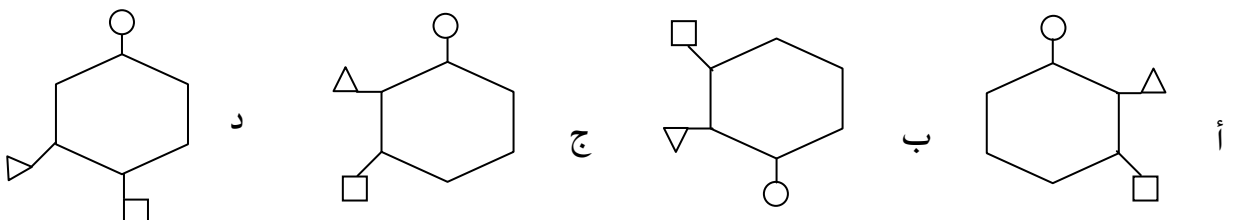
أكمل الشكل الناقص في الأشكال الآتية؟

5: ما الشكل الذي يجب وضعه مكان علامة الاستفهام؟



أ ب ج د

6: ما الشكل المختلف في الأشكال الآتية؟

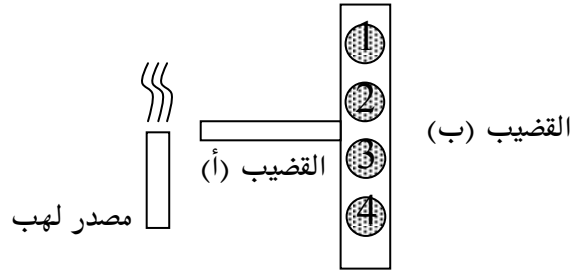


## القسم الثالث:

التعليمات....

في الأسئلة الآتية، اختر الإجابة الصحيحة.

1: في الشكل أدناه، قضيب معدنيّ (أ) متصل بقضيب معدني آخر (ب) ملصق به قطع معدنية خفيفة (1, 2, 3, 4) بواسطة الشمع؛ فإذا سخّنا القضيب (أ)، فأَي القطع المعدنية تسقط أولاً؟

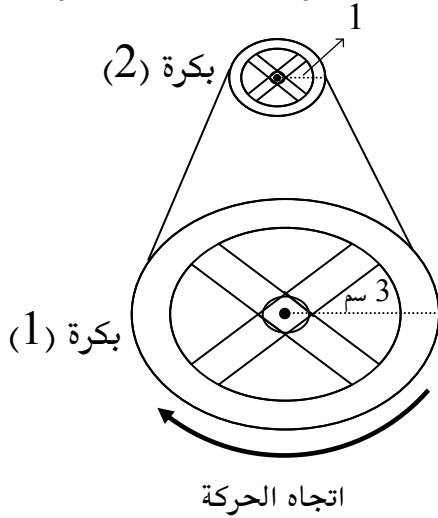


أ 2 و 1      ب 3 و 4      ج 2 و 3      د 4 و 1

2: مرّ رجل بجانب بوصلة فتحرك مؤشرها، والسبب في ذلك أن الرجل:

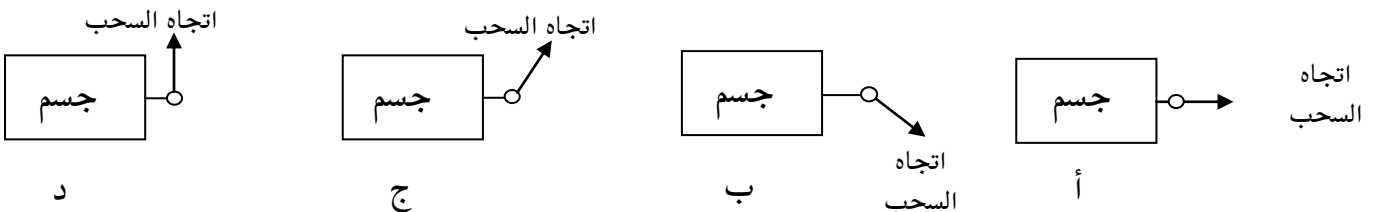
أ اتجه نحو الجنوب      ب اتجه نحو الشمال      ج يحمل قطعة مغناطيس      د يحمل بطارية جافة

3: في الشكل أدناه، إذا تحركت البكرة (1) دورة واحدة باتجاه عقارب الساعة، فإن البكرة (2) ستدور:



أ دورة واحدة مع عقارب الساعة  
ب دورتين عكس عقارب الساعة  
ج ثلاث دورات مع عقارب الساعة  
د دورتين مع عقارب الساعة

4: أي الأوضاع الآتية يمكن بواسطته سحب كتلة متساوية من نفس المادة على سطح أملس بأقل قوة؟

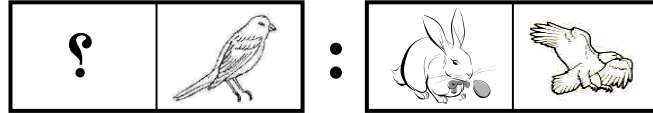


## القسم الرابع:


التعليمات....

حدّد الشكل الذي يملأ الفراغ ليعطي علاقة مشابهة لما في داخل الصندوق الأيمن.

1:



ب



أ



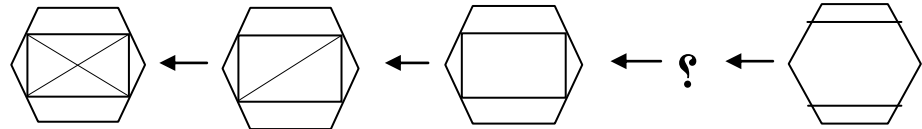
د



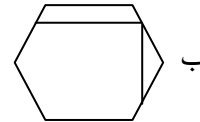
ج

التعليمات....

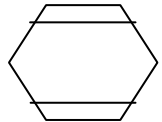
حدّد الشكل الذي يملأ الفراغ بما يناسب من الاختيارات.



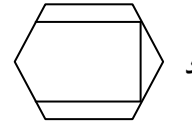
2:



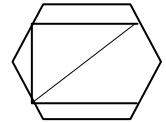
ب



أ



د



ج

التعليمات....

حدّد الاختيار الذي يوصلك إلى النتيجة المنطقية الصحيحة من بين البدائل.

3: ذهبت إلى المزرعة فرأيت مجموعة من الخرفان فعددت أرجلها وعيونها فوجدت أن لها سوياً 28 رجلاً و

14 عيناً؛ فما عدد الخرفان التي رأيتها؟

42

د

21

ج

14

ب

7

أ

التعليمات...

العبارة الآتية تحوي مقدمة غير واقعية تحتها خط، اختر الإجابة التي تكمل العبارة منطقيًا.

4: إذا كانت النار باردة، والصيف حارًا؛ فإن النار ...

أ قبس      ب دفع      ج هلاك      د صقيع

التعليمات...

في كل سؤال مما يأتي عبارة تحوي مقدمة غير واقعية تحتها خط، اختر الإجابة التي تكمل العبارة منطقيًا.

5:



إذا كان الدجاج يصطاد الأرانب، وكان النسر جارحًا؛ فإن الدجاج ...



يدجن

د




يفترس

ج



يُربى

ب



يحلّق

أ

التعليمات... اختر الإجابة التي تتناسب مع محتوى مقدمة السؤال.


6: تخرج محمد من الجامعة قبل وليد الذي تخرّج بعد زيد وقبل أحمد، فأَي الأربعة كان آخرهم تخرّجًا؟

أ محمد      ب وليد      ج زيد      د أحمد



7: " اشتتم طارق رائحة عطرية، وسمع زقزقة عصافير جميلة، وكان يتأمل في هذا الجمال الذي جمع بين الرائحة والألحان "

يدل هذا على أن طارقاً كان يجلس في:



د  
محل بيع ورود



ج  
حديقة



ب  
شاطئ

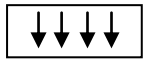


أ  
محل بيع عطورات

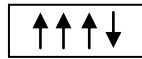
#### التعليمات

حدّد الشكل المناسب ليكون مكان علامة الاستفهام.

8: :  $\uparrow\downarrow\uparrow\uparrow$  :  $\uparrow\uparrow\downarrow\uparrow$  :  $\uparrow\uparrow\uparrow\downarrow$  :



د



ج



ب



أ

#### التعليمات

حدّد الاختيار الذي يوصلك إلى النتيجة المنطقية الصحيحة من بين البدائل.

9: ذهب مروان إلى السوق، فرأى عند التاجر أسماكاً ودجاجاً يمتلكون سوياً 20 عيناً و 10 أرجل، فما عدد الدجاج؟

20 د

15 ج

10 ب

5 أ