

مقياس موهبة

مقياس موهبة للقدرات العقلية المتعددة

المستوى : الصف الثالث المتوسط

القسم الأول :

التعليمات...

حدّد الكلمة التي تملأ الفراغ لتعطي علاقة مشابهة لما في داخل الصندوق الأيمن.

1:

صورة	إطار	:	بيت	؟
------	------	---	-----	---

أ جدار ب سور ج باب د سقف

التعليمات...

حدّد الكلمة التي تملأ الفراغ لتعطي علاقة مشابهة لما تحت الخط.

2:

إنسان	تَنَفُّسٌ	حياة
وردة	عطش	؟

أ قطف ب لون ج اقتلاع د ذبول

مثال - 3

في رأس السؤال كلمة. اختر الكلمة التي في نفس الفئة من الاختيارات المعطاة.

3: نمر

أ غزال ب فأر ج فهد د أرنب

التعليمات...

اختر الإجابة التي تتناسب مع محتوى مقدمة السؤال.

4: عبدالله أطول من محمد، ومحمد أقصر من خالد، وأطول من محمود، فأأي الأربعة أقصر؟

أ عبدالله ب محمد ج خالد د محمود

التعليمات...

حدد الاختيار الذي يكمل معنى الجملة إكمالاً صحيحاً

5: زرع مصطفى بعض الأعشاب الضرورية للطهي، مثل: النعناع والريحان والسُّنُوت؛ وعليه فإن مصطفى استخدم السُّنُوت

أ لإعداد طعامه ب لتعليف غنمه ج لتزيين بيته د لغسل ثيابه

التعليمات...

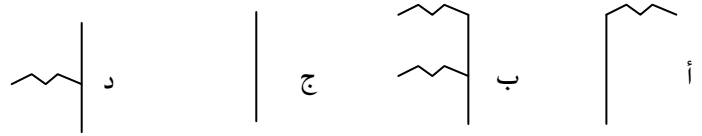
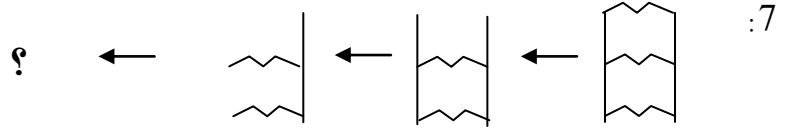
اختر الإجابة التي تتناسب مع محتوى مقدمة السؤال.

6: " كادت الشمس تغيب، وأخشى أن يفوتنا وقت صلاة ... "

أ العصر ب المغرب ج العشاء د الفجر

التعليمات...

أكمل الشكل الناقص لسلسلة الأشكال الآتية؟



التعليمات

حدّد الكلمة التي تملأ الفراغ لتعطي علاقة مشابهة لما في داخل الصندوق الأيمن.

8: حزام : بطن ؟

أ خيط ب نعل ج قدم د جورب

التعليمات

في رأس كل سؤال كلمة. اختر الكلمة التي في نفس الفئة من الاختيارات.

9: عرين

أ حديقة ب غابة ج حجر د صحراء

التعليمات

اختر الإجابة التي تتناسب مع محتوى مقدمة السؤال.

10: تسابقت أربع سيارات (زرقاء وحمراء وخضراء وبيضاء)، فكانت البيضاء أسرع من الحمراء وأبطأ من الخضراء التي كانت أسرع من الزرقاء، فأيهما فاز في السباق؟

أ البيضاء ب الخضراء ج الحمراء د الزرقاء

11: سافرت سعاد إلى مكة بعد هالة التي سافرت بعد هند وقبل سلمى؛ فأَيُّ الفتيات الأربع سافرت أولاً؟

أ سعاد ب هند ج هالة د سلمى

التعليمات

حدّد الاختيار الذي يكمل معنى الجملة اكتمالاً صحيحاً.

12: أحد الفلاحين البسطاء يزرع في مزرعته الخضروات الضرورية كالباذنجان، والباميا، واللوبياء، والمبلوليا؛ وعليه فإن الفلاح يزرع المبلوليا لغرض.....:

أ الأكل ب التخزين ج الزينة د التقديم

13: يجب الابتعاد عن ثاني أكسيد الكربون والسيكونين والأبخرة المنتشرة في الجو، لذا فإنه يجب الابتعاد عن السيكونين لأنه.....:

أ منتشر ب حار ج معدن مشع د غاز سام

اقرأ النص التالي للإجابة على السؤالين 14، 15

(1) "افتخر الأرنب بسرعته بين الحيوانات وبأن أحداً لم يسبقه أبداً، ثم تحدّى الحيوانات أن تتباريه، فقالت السلحفاة: (أنا أباريك) فضحك الأرنب وقال مستهزئاً: (كيف أسبقك وأنت مضرب الأمثال في البطء، أجابت السلحفاة: (أنت مصيب ولكن انتظر حتى ترى النتيجة).
(2) وافق الأرنب، وبدأ السباق، وبعد شوط صغير من جري الأرنب السريع، نظر خلفه فلم ير السلحفاة لبطنها، فقال لنفسه: (أنام وأستيقظ قبل أن تصل) وراح في نوم عميق، وعندما أفاق الأرنب وجد السلحفاة تكاد تصل خط النهاية، فقفز كالمجنون، ولكن دون فائدة؛ لأن السلحفاة كانت قد سبقته وفازت بالسباق."

14: أنسب عنوان لهذا النص هو:

أ السلحفاة البطيئة ب خدعة السلحفاة ج الأرنب السريع د تهاون الأرنب

15: يُفهم من الفقرة (2) أن فوز السلحفاة بالسباق تحقق:

أ بالتهاون ب بالمشاورة ج بالسرعة د بالقوة

التعليمات

اختر الإجابة التي تتناسب مع محتوى مقدمة السؤال.

16: "الرأي يسد ثلم السيف، والسيف لا يسد ثلم الرأي".

يفهم من العبارة السابقة أن:

أ الرأي الصائب يفوق القوة ب القوة تفوق الرأي
ج الرأي الخاطئ يفوق القوة د الضعف يفوق الرأي الصائب

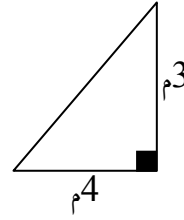
التعليمات

في الأسئلة التالية، اختر الإجابة الصحيحة.

1: يحتاج مصنع إلى أربعة عمال لمدة خمسة أيام لإنتاج مئة قطعة، فكم عاملاً يحتاج المصنع لإنتاج مئتين وسبعين قطعة في ستة أيام؟

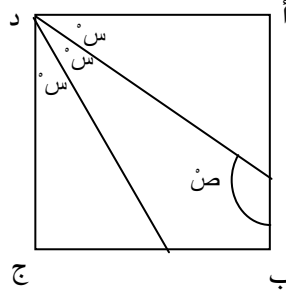
- أ 6 ب 7 ج 9 د 12

2: جرى أحمد حول الحديقة أدناه ثلاث مرات، فكم المسافة التي قطعها بالمتراً؟



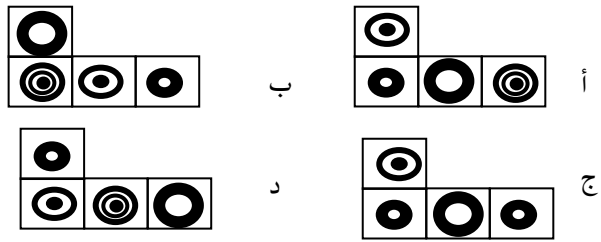
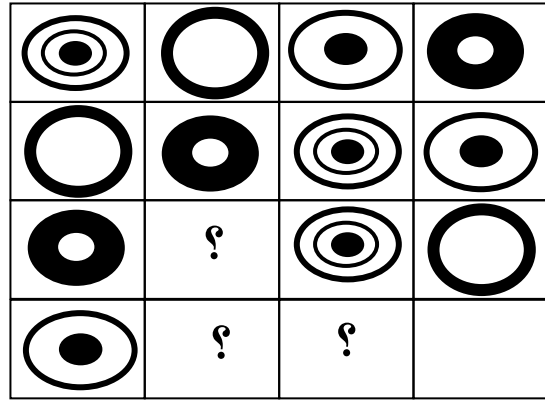
- أ 12
ب 21
ج 30
د 36

3: في المربع أ ب ج د قيمة الزاوية ص تساوي:

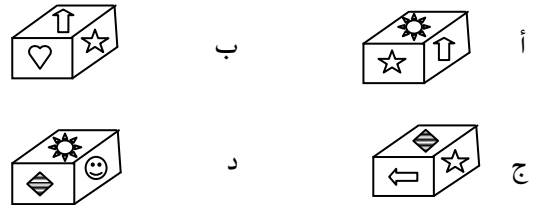
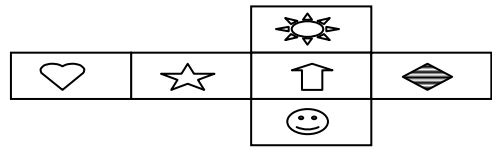


- أ 100°
ب 120°
ج 130°
د 150°

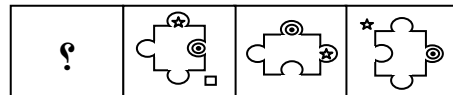
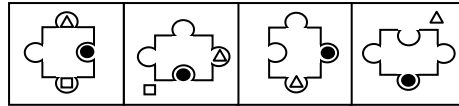
4: أي الأشكال أدناه يمكن أن يوضع في مكان علامات الاستفهام لإكمال الشكل التالي منطقياً؟




5: أي الأشكال أدناه نحصل عليه عندما نطوي الشكل المفتوح؟



6: إذا كان:



فإن الشكل الذي يجب وضعه مكان علامة الاستفهام هو:

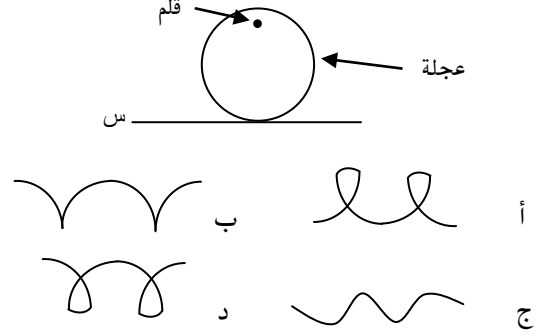


القسم الثالث:

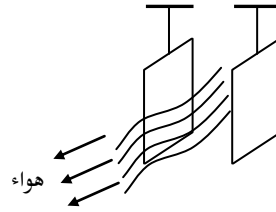
التعليمات

في الأسئلة التالية، اختر الإجابة الصحيحة.

1: إذا وُضع قلم في ثقب العجلة، ثم دارت على سطح (س) فأَي الأشكال أدناه سيرسّمه القلم في سطح عمودي خلف العجلة؟

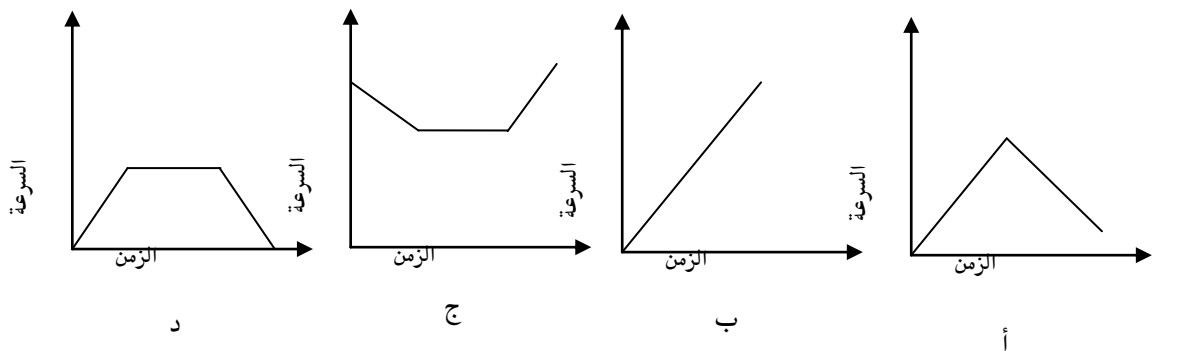
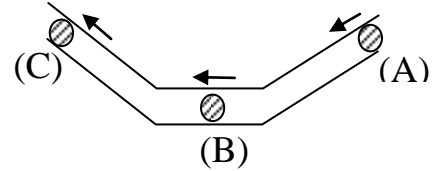


2: في الشكل أدناه، ورقتان معلقتان وحركتهما حُرّة، فإذا سحبنا الهواء بينهما بسرعة عالية فما الذي يحدث للورقتين؟

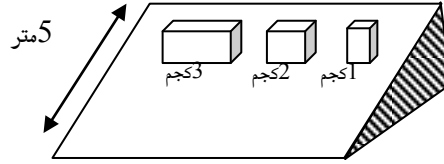


- أ تباعدان عن بعضهما
- ب تقتربان من بعضهما
- ج تبقىان في مكانهما
- د تتحرك إحداهما إلى الداخل والأخرى إلى الخارج

3: في الشكل أدناه، أي الرسوم البيانية في الاختيارات يمثل حركة الكرة المعدنية في مجرى الأنبوب من النقطة (A) إلى النقطة (C)؟



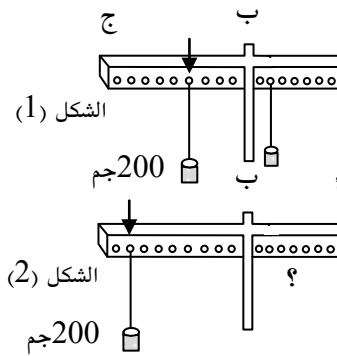
4: ثلاث كتل مختلفة تنزلق في نفس الوقت إلى أسفل سطح أملس مائل ولمسافة (5) أمتار. أيها يصل أولاً؟



- أ الكتلة (1) كجم
ب الكتلة (2) كجم
ج الكتلة (3) كجم
د تصل جميعاً في نفس الوقت

5: افترض أن لديك قطعة حديد وزنها 200 جرام ومعلقة في الثقب المشار إليه ومتزنة مع ثقل مجهول في الطرف الآخر كما في الشكل (1). ثم حرك ثقل القطعة (200 جرام) إلى الثقب 8 كما في الشكل (2)؛ ففي أي ثقب تضع الثقل المجهول في الطرف الآخر لتتم حالة الاتزان عندما تبدأ

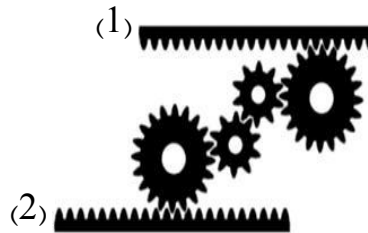
العد من النقطة (ب) باتجاه (أ)؟



- أ يبقى الثقل المجهول في المكان نفسه
ب يوضع الثقل المجهول في الثقب السابع
ج يوضع الثقل المجهول في الثقب الرابع
د يوضع الثقل المجهول في الثقب السادس

6: إذا كانت الحافة المسننة رقم (1) تتحرك إلى اليسار بسرعة

ثابتة فإن الحافة المسننة رقم (2) تتحرك:



- أ إلى اليمين بسرعة أقل
ب إلى اليمين بنفس السرعة
ج إلى اليسار بنفس السرعة
د إلى اليسار بسرعة أعلى

القسم الرابع :

التعليمات ..

العبارة الآتية تحوي مقدّمة غير واقعية تحتها خط، اختر الإجابة التي تكمل العبارة منطقياً.

1: إذا كانت النار باردة، والصيف حاراً؛ فإن النار ...

أ قبس ب دفء ج هلاك د صقيع

التعليمات ..

حدّد الاختيار الذي ترتبط فيه الكلمتان بنفس علاقة الكلمتين في رأس السؤال.

2: جفن: عين

أ ظفر: أصبع ب يد: رأس ج رجل: صدر د أنف: فم

التعليمات ..

حدّد الشكل الذي يملأ الفراغ ليعطي علاقة مشابهة لما في داخل الصندوق الأيمن.

3:



ب



أ



د



ج

التعليمات ..

املأ الفراغ بما يناسب من الاختيارات.

4:

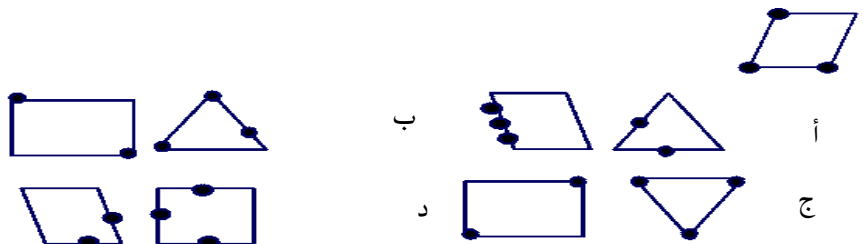
؟	شهر	12	1
---	-----	----	---

أ يوم ب أسبوع ج سنة د عقد

التعليمات ..

اختر الفئة التي تناسب الشكل من الاختيارات.

5:



ب

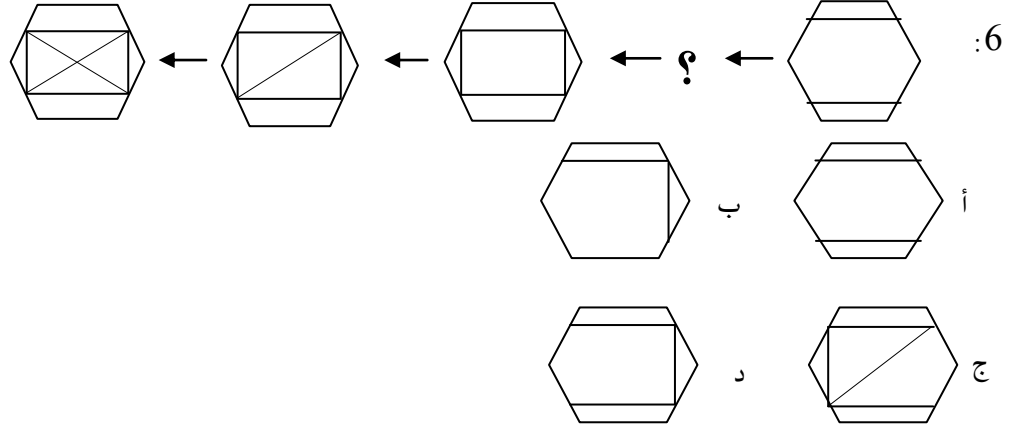
أ

د

ج

التعليمات ..

حدّد الشكل الذي يملأ الفراغ بما يناسب من الاختيارات.



التعليمات ..

حدّد الاختيار الذي يوصلك إلى النتيجة المنطقية الصحيحة من بين البدائل.

7: ذهبت إلى المزرعة فرأيت مجموعة من الخرفان فعددت أرجلها وعيونها فوجدت أن لها سوياً 28 رجلاً و 14 عيناً؛ فما عدد الخرفان التي رأيتها؟

أ 7 ب 14 ج 21 د 42

التعليمات

في كل سؤال مما يأتي عبارة تحوي مقدّمة غير واقعية تحتها خط، اختر الإجابة التي تكمل العبارة منطقياً.

8: إذا كانت الشوارع من المحيطات، وكانت الطائرات في الجو؛ فإن في الشوارع ...

أ سيارات ب قطارات ج سفناً د شاحنات

9: إذا كان الغصن فكرة، والحليب من البقر، فإن الأغصان من ..

أ الأشجار ب الكتب ج العقول د السيقان

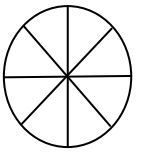
التعليمات

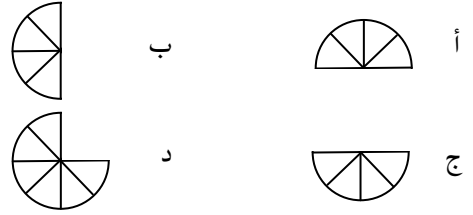
حدّد الشكل الذي يملأ الفراغ ليعطي علاقة مشابهة لما في داخل الصندوق الأيمن.

10:

75	100
----	-----

:

?	
---	--



التعليمات

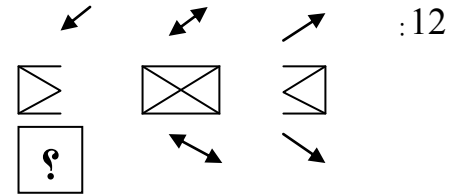
حدّد الاختيار الذي ترتبط فيه الكلمتان بنفس علاقة الكلمتين في رأس السؤال.

11: سمك : ماء

أ عصفور : حمام ب تفاح : ثلاجة ج نمر : غابة د كلب : حديقة

التعليمات

املأ الفراغ فيما يتناسب من الاختيارات.



13:

90°	$\frac{1}{4}$	180	$\frac{1}{2}$	360	?
-----	---------------	-----	---------------	-----	---

أ 2 ب 1 ج $\frac{3}{4}$ د $\frac{2}{3}$

التعليمات

حدّد الاختيار الذي يوصلك إلى النتيجة المنطقية الصحيحة من بين البدائل.

14 : أصدر الأب تعليماته لابنيه أحمد ومحمد بإغلاق النوافذ العشر لمنزلهم قبل خروجهم لقضاء العطلة ، فذهب أحمد للطابق العلوي لإغلاق نوافذه بينما توجه محمد لإغلاق نوافذ الطابق السفلي ، لكن الأب لاحظ عقب عودتهم من العطلة بأن هناك نافذة في الطابق العلوي مازالت مفتوحة؟

- أ عندما عاد الأب لاحظ أن تسع نوافذ مغلقة
- ب نسي أحمد أن يغلق كل نوافذ الطابق العلوي
- ج قام شخص ما بفتح نافذة الطابق العلوي أثناء عطلتهم
- د يتكون هذا المنزل من طابقين على الأقل

15 : إذا كان لديك عود ثقاب واحد ، ودخلت في غرفة باردة جداً ، وكان هناك مصباح يعمل بالزيت ، وكان هناك مدفأة خشب ، ومدفأة فحم ؛ فما الذي تشعله أولاً؟

- أ: مدفأة الخشب
- ب: مدفأة الفحم
- ج: مصباح الزيت
- د: عود الثقاب