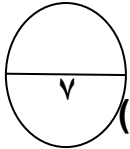




الدرجة كتابة	الدرجة	○ روجعت وبقيت	اختبار الفصل الدراسي الاول للعام الدراسي ١٤٣٧ / ١٤٣٨ هـ			
.....	٣٠	○ روجعت ونقصت	التوقيع	المراجع	التوقيع	المصحح
		○ روجعت وزيدت				
اسم الطالب :						
الصف : اول /						

السؤال الاول : أ - ضع المفهوم الجغرافي المناسب في المكان المناسب :



(الطقس - السهل - البحر - التركيب النوعي - السكان - التركيب العمري - الزيادة الطبيعية - الخارطة)

١ - هي تمثيل لسطح الارض او جزء منه على لوحة مستوية (.....)

٢ - ارض منبسطة تمتد في مساحات واسعة (.....)

٣ - (.....) مجموعة من البشر يستقرون في مكان محدد وزمن معين .

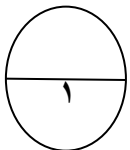
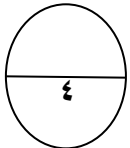
٤ - (.....) الفرق بين معدل المواليد والوفيات خلال فترة معينة .

٥ - مسطح من المياه المالحة اصغر من المحيط (.....)

٦ - حالة الجو خلال فترة قصيرة (.....)

٧ - هو تصنيف السكان الى ذكور واناث (.....)

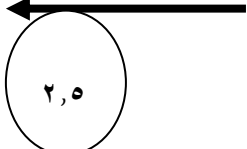
ب - اكتب عناصر الخارطة في المستطيلات التالية حسب السهم المشار اليه :



ج - علل : وجود الحياة على سطح الارض .

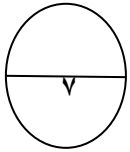
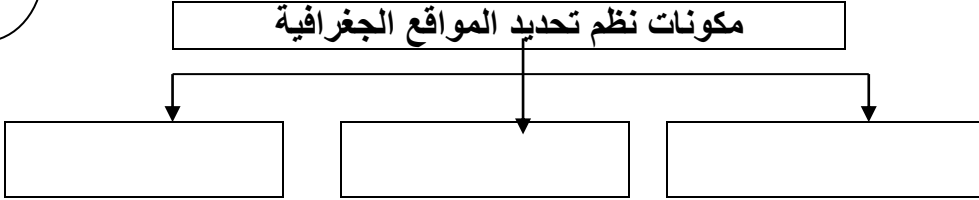
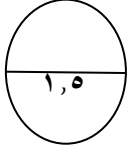
اقلب الورقة لمتابعة الحل

السؤال الثاني : أ - سجل طرق نقل الخارطة اليدوية والآلية في المربعات التالية :



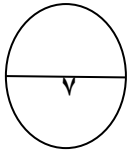
		الطبع بالكربون	اليديوية
	البروجكتر		الآلية

ب - اكمل خارطة المفهوم التالية :



السؤال الثالث : أ - اختر الإجابة الصحيحة :

- ١ - اكبر كواكب المجموعة الشمسية (عطارد / المشتري / زحل)
- ٢ - توزيع الامطار في الوطن العربي توضحه الخارطة (المناخية / النباتية / الاقتصادية)
- ٣ - اتجاه حركة الارض من (الشرق الى الغرب / من الغرب الى الشرق / من الشمال الى الجنوب)
- ٤ - من الرياح المحلية (السموم / القطبية / التجارية)
- ٥ - من المدن الصناعية في وطني (مكة / الطائف / الجبيل)
- ٦ - من المشكلات السكانية التي يعاني منها وطني (قلة السكن / انقطاع الكهرباء / الاختناقات المرورية)
- ٧ - تبلغ نسبة الماء على سطح الارض (٥١ % / ٧١ % / ٢٩ %)



ب - ضع علامة (√) أمام العبارات الصحيحة , وعلامة (x) أمام العبارات الخاطئة :

- ١ - وزارة الاقتصاد والتخطيط هي المسؤولة عن التعداد السكاني في بلادنا . ()
- ٢ - يحل فصل الشتاء في نصف الارض الشمالي ويكون في النصف الجنوبي فصل الربيع . ()
- ٣ - تحدد اجهزة GPS الاماكن على سطح الارض بدقة عالية ()
- ٤ - اكثر قارات العالم سكانا قارة افريقيا . ()
- ٥ - يمتد محور الارض القطبي من الشمال الى الجنوب . ()
- ٦ - النجم جسم كروي صلب ومعمم . ()
- ٧ - شكل الارض كامل الاستدارة . ()

انتهت الاسئلة

.... مع تمنياتي للجميع النجاح والتوفيق